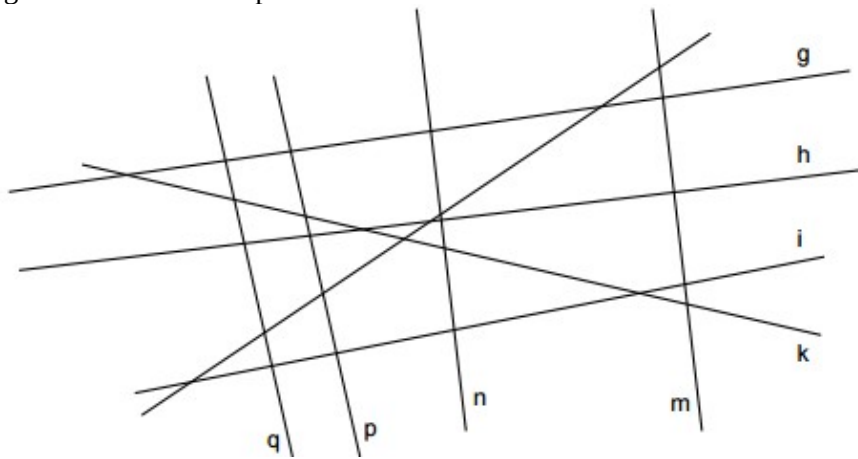
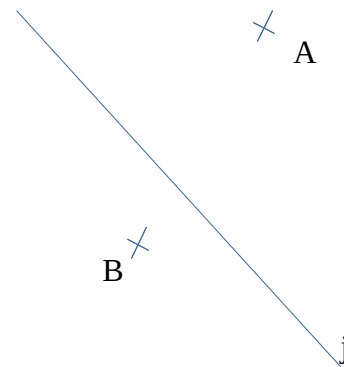


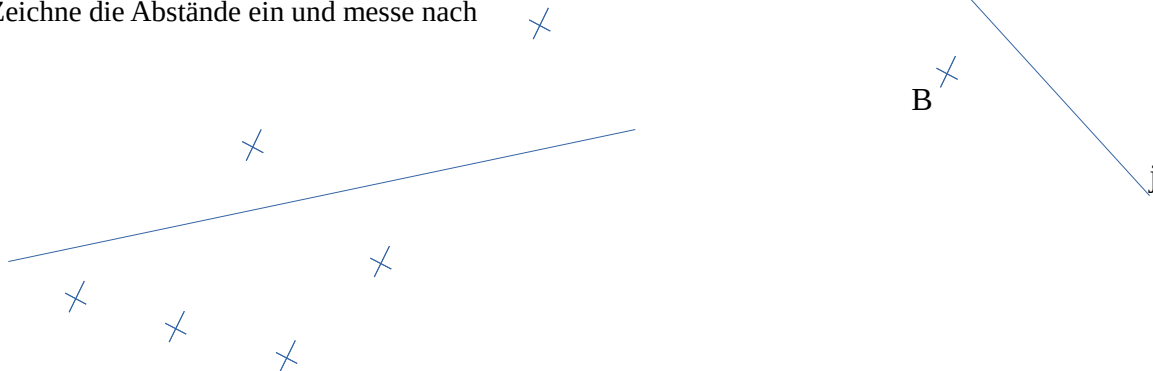
1. Finde mit Hilfe des Geodreiecks alle Geraden, die zueinander senkrecht oder zueinander parallel sind. Notiere Deine Ergebnisse mit den entsprechenden Zeichen.



2. Zeichne eine Senkrechte zur Geraden j durch den Punkt A.
 Zeichne eine Parallele zur Geraden j durch den Punkt B.



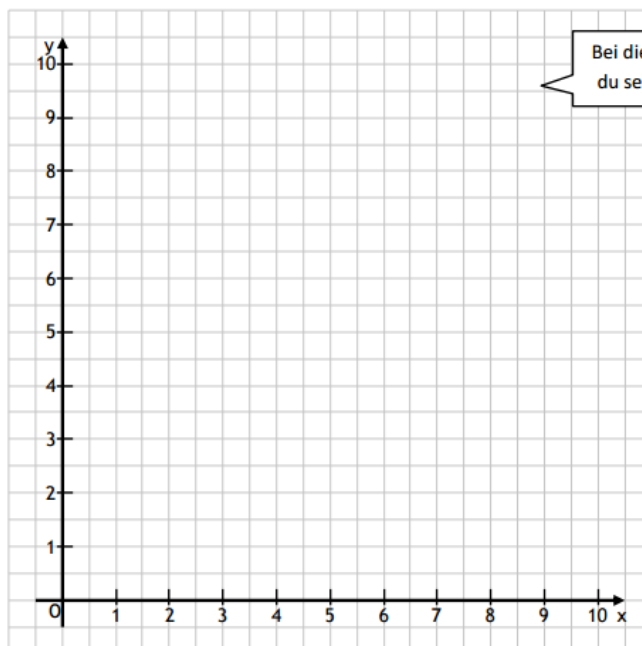
3. Welchen Abstand haben die Punkte jeweils zur Geraden g?
 Zeichne die Abstände ein und messe nach



4.

Zeichne jeweils eine Strecke...

- ... vom Punkt (0/8) zum Punkt (1/0)
- ... vom Punkt (0/7) zum Punkt (2/0)
- ... vom Punkt (0/6) zum Punkt (3/0)
- ... vom Punkt (0/5) zum Punkt (4/0)
- ... vom Punkt (0/4) zum Punkt (5/0)
- ... vom Punkt (0/3) zum Punkt (6/0)
- ... vom Punkt (0/2) zum Punkt (7/0)
- ... vom Punkt (0/1) zum Punkt (8/0)



(5 | 3)

Haus finden: 5 Häuser nach rechts
 Stockwerk finden: 3 nach oben