

Übungszettel zu Zeichentechniken

Strecken, Punkte, Geraden, Abstände, Senkrechte, Parallelen, Koordinatensysteme, Achsen


Folgende Aufgaben sollst bis nächste Woche _____ erledigen. Kreuze an, wie gut du es konntest. Dann kannst du sehen, was du noch mehr üben musst.

1. Zeichne folgende Streckenlängen. → Heft

AB = 5,5cm

DF = 3,2 cm



GJ = 9,1 cm



2. Zeichne eine Senkrechte und eine Parallele durch P.

→ hier lösen

Zeichne einen Punkt A im Abstand von 1,5 cm und einen Punkt Q im Abstand 2,2cm.



Im Mathebuch:

3. S. 70 Nr. 16 → Heft



4. S. 79 Nr. 10a → hier aufschreiben



5. S. 79 Nr. 11 → hier lösen

Du musst die Tabelle nicht übertragen. Nutze diese hier.

	g ₁	g ₂	g ₃	g ₄	g ₅	g ₆	g ₇
g ₃							
g ₄							
g ₅							
g ₆							



6. S. 79 Nr. 12 → hier Ergebnisse aufschreiben

a) b) c) d) e) f)



7. S. 79 Nr. 14 → Heft



8. S. 81 Nr. 2 → hier lösen



9. S. 81 Nr. 4 links → Heft



10. Nr. 4 a, b, c (rechts) → Heft

